



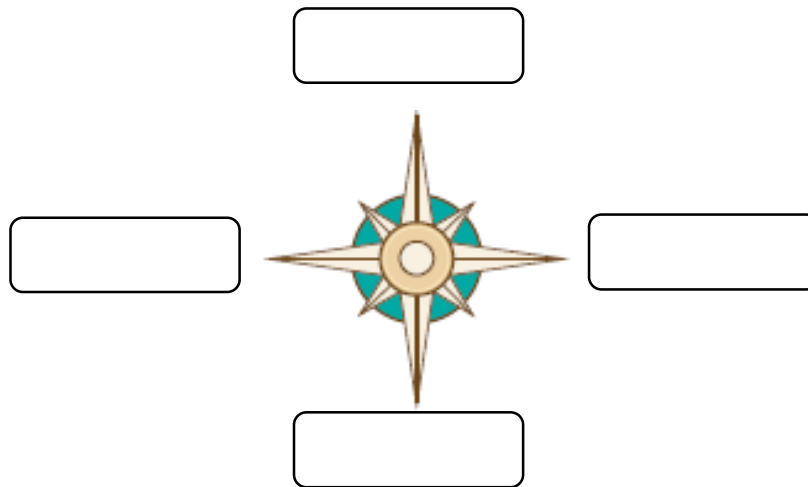
## GUIA DE TRABAJO: “Cómo nos ubicamos en el espacio y Chile”

NOMBRE: \_\_\_\_\_

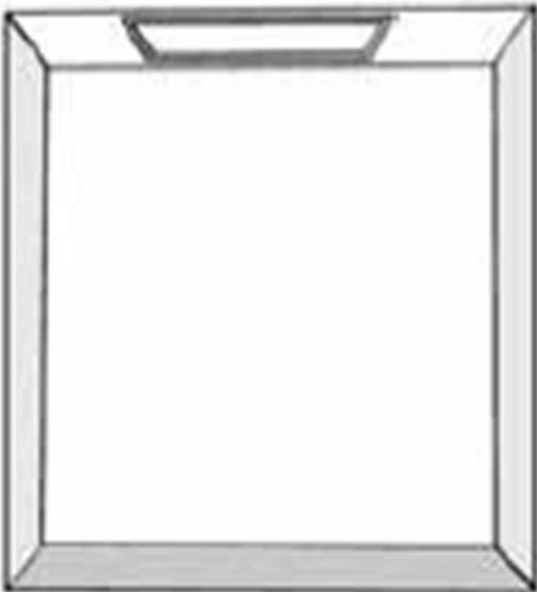
FECHA: \_\_\_\_\_ PTJE. TOTAL: 26 pts. PTJE. OBTENIDO: \_\_\_\_ pts.

NOTA:

- I. Completa la **rosa de los vientos** con el nombre de los puntos cardinales en los recuadros. (4 pts.)



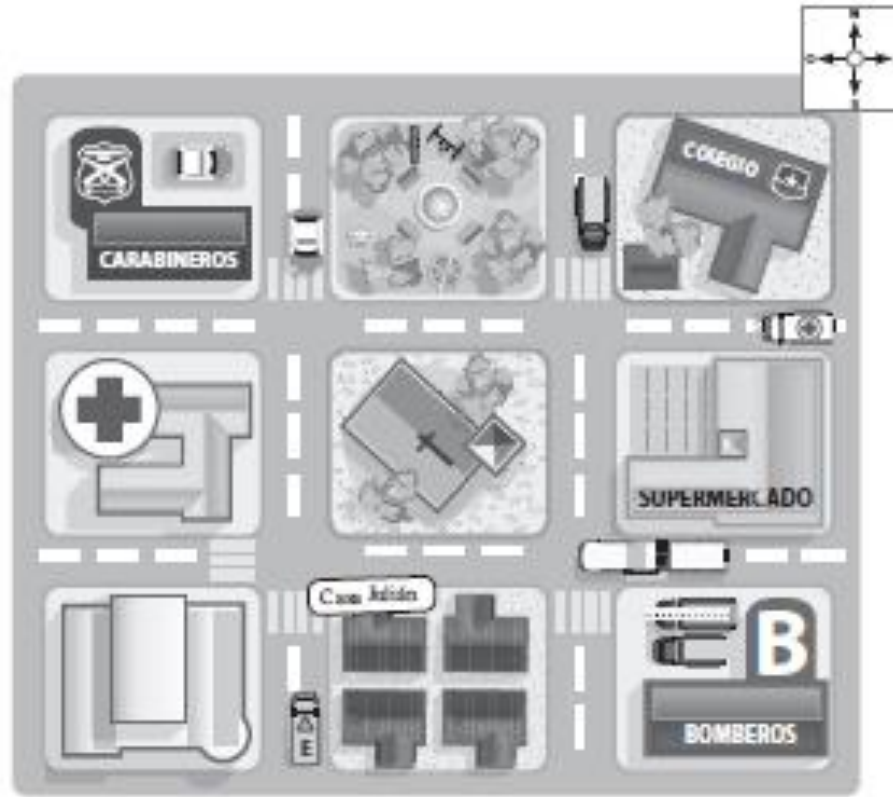
- II. Crea el plano de tu habitación con su respectiva simbología. (10 pts.)



SIMBOLOGIA	NOMBRE



III. Observa el plano y responde a las preguntas. (6ptos.)



- Al sur de la plaza se encuentra la \_\_\_\_\_.
- Julián vive al oeste de los \_\_\_\_\_.
- El colegio se encuentra al \_\_\_\_\_ del supermercado y al \_\_\_\_\_ de la plaza.
- La plaza esta al este de los \_\_\_\_\_.
- Encierra el lugar que se encuentra al sur de Carabineros.



IV. Observa el mapa y sigue las siguientes instrucciones. (6ptos.)

1. Pinta de rojo **Chile**.
2. Pinta de verde **Perú**.
3. Pinta de naranja **Bolivia**.
4. Pinta de amarillo **Argentina**.
5. Pinta de azul el **Océano Pacífico**.
6. Pinta gris el **Océano Atlántico**.



V. Lee la pregunta y selecciona la alternativa correcta. (6 pts)

1) ¿Cuántos continentes existen?

- a) Tres continentes
- b) Seis continentes
- c) Ocho continentes

2) ¿En qué continente se ubica Chile?

- a) América
- b) Oceanía
- c) Europa

3) ¿Cuál de los siguientes es un Océano?

- a) Océano Asiático
- b) Océano Atlántico
- c) Océano Africano

4) ¿En cuántas regiones se divide Chile?

- a) En 10 regiones
- b) En 18 regiones
- c) En 16 regiones

5) ¿En qué región de Chile vives?

- a) Región Metropolitana
- b) Región del Maule
- c) Región de Antofagasta

6) ¿Cuál es la capital de Chile?

- a) Punta Arenas
- b) Concepción
- c) Santiago



VI. Une con una línea el nombre de cada institución con el servicio que ofrece (5 pts.)

**Correo**

**Hospital**

**Banco**

**Agencia de viajes**

**Supermercado**

Comprar alimentos

Sanarte de una enfermedad

Viajar al extranjero

Cuidar tu dinero

Enviar una carta